


Nombre _____ Fecha _____

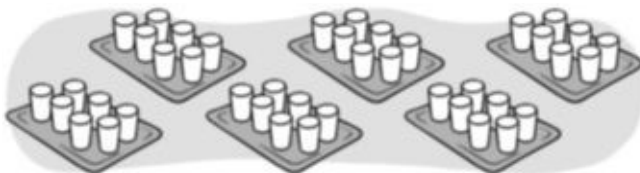
1 ¿Cuántos vasos hay en total? Completa.



Hay bandejas
con vasos cada una.

$$\square + \square + \square + \square = \square \blacktriangleright \square \times \square = \square$$

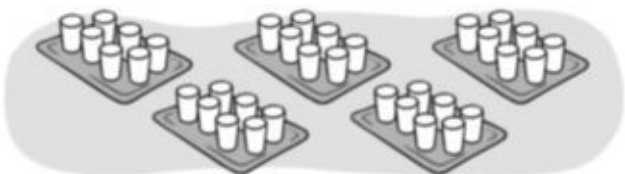
Hay vasos en total.



Hay bandejas
con vasos cada una.

$$\square + \square + \square + \square + \square + \square = \square \blacktriangleright \square \times \square = \square$$

Hay vasos en total.



Hay bandejas
con vasos cada una.

$$\square + \square + \square + \square + \square = \square \blacktriangleright \square \times \square = \square$$

Hay vasos en total.

2 Completa.

$7 \times 2 = \square$

$7 \times 3 = \square$

$7 \times 0 = \square$

$7 \times 10 = \square$

$7 \times 8 = \square$

$7 \times 9 = \square$

$7 \times 1 = \square$

$7 \times 7 = \square$