








## El Doble y la Mitad



1. Dibuja el doble de las siguientes figuras.

|   |  |
|---|--|
|    |  |
|  |  |
|  |  |
|  |  |
|  |  |

2. Une cada cantidad con el doble de ésta.

• • •  
 • • •  
 • • •  
 • • •  
 • • •  
 • • •  
 • • •  
 • • •  
 • • •

3. Completa las siguientes operaciones.

|   |   |
|---|---|
| El doble de <input type="text" value="4"/> es <input type="text" value="8"/><br>porque:<br>$4 + 4 = 8$  | El doble de <input type="text" value="9"/> es <input type="text" value="1"/> <input type="text" value="8"/><br>porque:<br><input type="text"/> + <input type="text"/> = <input type="text"/> <input type="text"/> |
| El doble de <input type="text"/> es <input type="text" value="1"/> <input type="text" value="0"/><br>porque:<br><input type="text"/> + <input type="text"/> = <input type="text"/> <input type="text"/>   | El doble de <input type="text"/> es <input type="text" value="1"/> <input type="text" value="4"/><br>porque:<br><input type="text"/> + <input type="text"/> = <input type="text"/> <input type="text"/>           |
| El doble de <input type="text"/> es <input type="text" value="2"/> <input type="text" value="0"/><br>porque:<br><input type="text"/> <input type="text"/> + <input type="text"/> <input type="text"/> = <input type="text"/> <input type="text"/> | El doble de <input type="text"/> es <input type="text" value="1"/> <input type="text" value="2"/><br>porque:<br><input type="text"/> + <input type="text"/> = <input type="text"/> <input type="text"/>           |
| El doble de <input type="text"/> es <input type="text"/> <input type="text" value="8"/><br>porque:<br><input type="text"/> + <input type="text"/> = <input type="text"/> <input type="text"/>   | El doble de <input type="text"/> es <input type="text" value="1"/> <input type="text" value="6"/><br>porque:<br><input type="text"/> + <input type="text"/> = <input type="text"/> <input type="text"/>           |