

Nombre \_\_\_\_\_ Fecha \_\_\_\_\_


## 1 Cuenta y completa.

¿Cuántos lápices hay en total?

$$\square + \square = \square$$

$$\square \times \square = \square$$

Hay  lápices.




¿Cuántas manzanas hay en total?

$$\square + \square + \square + \square = \square$$

$$\square \times \square = \square$$

Hay  manzanas.

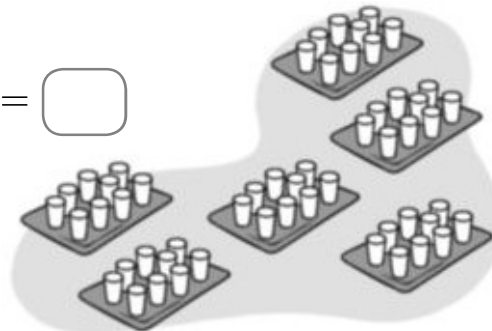


¿Cuántos vasos hay en total?

$$\square + \square + \square + \square + \square + \square = \square$$

$$\square \times \square = \square$$

Hay  vasos.



## 2 Completa.

$9 \times 8 = \square$

$9 \times 9 = \square$

$9 \times 1 = \square$

$9 \times 7 = \square$

$9 \times 3 = \square$

$9 \times 5 = \square$

$9 \times 0 = \square$

$9 \times 10 = \square$