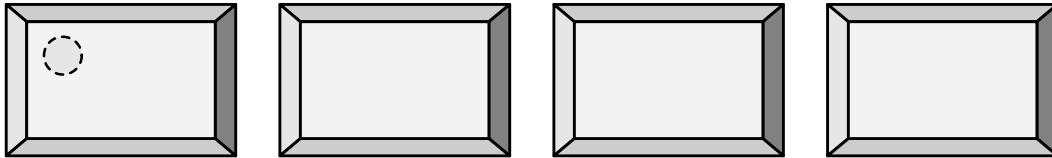


Nombre _____ Fecha _____

- 1** Reparte 20 círculos entre las 4 cajas y escribe la división asociada.



- 2** Escribe qué significa la división.

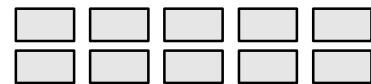
Diana reparte en partes iguales cartas de una baraja en montones.

$$14 : 2 = 7$$

- 3** Dibuja el doble en el primer caso y la mitad en el segundo caso y completa.



$$\square \times \square = \square$$



$$\square : \square = \square$$

- 4** Sofía tiene 18 lazos. Carolina tiene la mitad de lazos que Sofía. ¿Cuántos lazos tienen entre las dos?

1.º $\square \circ \square = \square$

2.º $\square \circ \square = \square$

Solución

5 Calcula.

$9 \times \square = 36$ $9 \times 9 = \square$ $9 \times \square = 72$ $9 \times 3 = \square$
 $8 \times \square = 40$ $9 \times 6 = \square$ $9 \times \square = 54$ $9 \times 0 = \square$



6 Mónica tiene 9 billetes de 5 €, y 3 € en monedas.
¿Cuánto dinero tiene?

Operaciones ▶ 1.º $\square \circ \square = \square$ 2.º $\square \circ \square = \square$

Solución ▶

7 Luis tiene que nadar 975 m. Ha nadado ya 9 series de 50 m cada una. ¿Cuántos metros le faltan por nadar?

Operaciones

1.º  2.º 

Solución ▶

8 Colorea el punto al que llega el itinerario.

6 → 3 ↑ 2 ← 1 ↓ 2 ← 4 ↑ 10 → 2 ↓ 2 → 2 ↑

