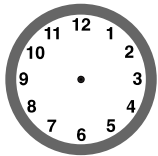
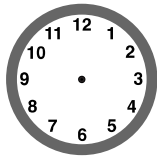


Nombre \_\_\_\_\_ Fecha \_\_\_\_\_

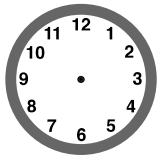
**1 Representa en cada par de relojes la hora que se indica.**



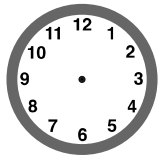

Las 8





Las 11 y media.




Las 5 menos cuarto.




Las 7 y cuarto.





Las 2 menos cuarto.


**2 ¿Qué hora es? Piensa y completa.**

9:15

Dos horas después

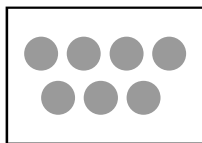


Tres horas antes

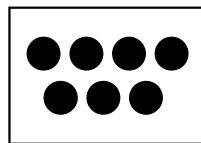


**3 Escribe debajo las palabras *seguro*, *imposible* o *posible*.**

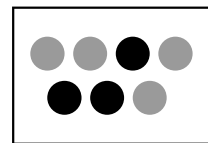
Sacar una bola gris.



Sacar una bola gris.



Sacar una bola negra.



**4 Escribe verdadero (V) o falso (F) según corresponda.**

Es seguro sacar color blanco.



Es imposible sacar color gris.




Es posible sacar color gris.




**5 Colorea las figuras para que las frases sean ciertas.**


Es seguro sacar una cara roja.



Es posible sacar una cara azul.



Es imposible sacar una cara verde.



**6 Calcula y después comprueba con la calculadora.**

$$678 + 194$$

$$825 - 439$$

$$132 \times 3$$

**7 Escribe qué operación se hace en cada caso y calcúlala.**

$$(4) (9) (5) (+) (7) (8) (=)$$

$$(4) (0) (2) (\times) (2) (=)$$

**8** La película empezó a las 7 y cuarto, duró una hora y tres cuartos. ¿A qué hora terminó la película?

**9** Jorge llega a casa a las 7 de la tarde. Hace las tareas durante una hora y media. En cenar tarda media hora más. ¿A qué hora se va a la cama?